

Zehnerübergang +/-

10

1	2	3	4	5	6	7	8	9	10
---	---	---	---	---	---	---	---	---	----

Zehnerübergang +/-

11

1	2	3	4	5	6	7	8	9	10	11
---	---	---	---	---	---	---	---	---	----	----

Zehnerübergang +/-

12

1	2	3	4	5	6	7	8	9	10	11	12
---	---	---	---	---	---	---	---	---	----	----	----

Zehnerübergang +/-

13

1	2	3	4	5	6	7	8	9	10	11	12	13
---	---	---	---	---	---	---	---	---	----	----	----	----

Zehnerübergang +/−

14

1	2	3	4	5	6	7	8	9	10	11	12	13	14
---	---	---	---	---	---	---	---	---	----	----	----	----	----

Zehnerübergang +/−

15

1	2	3	4	5	6	7	8	9	10	11	12	13	14	15
---	---	---	---	---	---	---	---	---	----	----	----	----	----	----

Zehnerübergang +/-

16

1	2	3	4	5	6	7	8	9	10	11	12	13	14	15	16
---	---	---	---	---	---	---	---	---	----	----	----	----	----	----	----

Zehnerübergang +/-

17

1	2	3	4	5	6	7	8	9	10	11	12	13	14	15	16	17
---	---	---	---	---	---	---	---	---	----	----	----	----	----	----	----	----

Zehnerübergang +/-

18

1	2	3	4	5	6	7	8	9	10	11	12	13	14	15	16	17	18
---	---	---	---	---	---	---	---	---	----	----	----	----	----	----	----	----	----

Zehnerübergang +/-



19


1	2	3	4	5	6	7	8	9	10	11	12	13	14	15	16	17	18	19
---	---	---	---	---	---	---	---	---	----	----	----	----	----	----	----	----	----	----

Zehnerübergang +/-

20

1	2	3	4	5	6	7	8	9	10	11	12	13	14	15	16	17	18	19	20
---	---	---	---	---	---	---	---	---	----	----	----	----	----	----	----	----	----	----	----





Zehnerübergang $+/-$

1. Nimm eine Karte und einen Satz Zahlenstreifen.
2. Lege einen Zahlenstreifen an den rechten Rand des Zahlenstrahls und verdecke damit eine bzw. mehrere Zahlen.
3. Lies die Plus- und Minus- Aufgabe ab und schreibe sie in dein Heft.
4. Welche Aufgaben findest du?

Zehnerübergang $+/-$

1. Nimm eine Karte und einen Satz Zahlenstreifen.
2. Lege einen Zahlenstreifen an den rechten Rand des Zahlenstrahls und verdecke damit eine bzw. mehrere Zahlen.
3. Lies die Plus- und Minus- Aufgabe ab und schreibe sie in dein Heft.
4. Welche Aufgaben findest du?

Zehnerübergang $+/-$

Über- und Unterschreitung des Zehners im Zahlenraum bis 20

Zehnerübergang $+/-$

Über- und Unterschreitung des Zehners im Zahlenraum bis 20